

## LIMIT

JUMLAH PERTEMUAN : 2 PERTEMUAN

TUJUAN INSTRUKSIONAL KHUSUS :

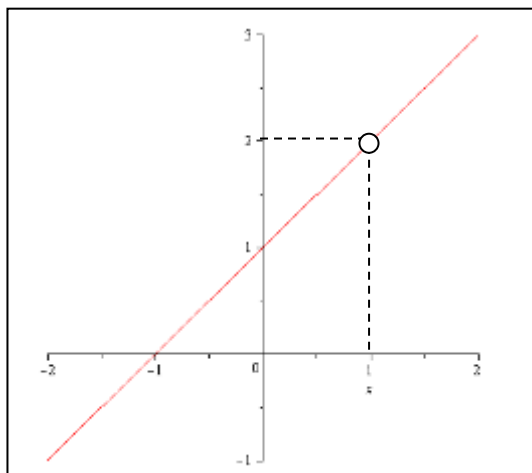
Memahami konsep dasar limit, teorema dan penggunaan limit

**Materi :**

### 4.1 Pendahuluan

Perhatikan fungsi di bawah ini:

$$f(x) = \frac{x^2 - 1}{x - 1}$$



Perhatikan gambar di samping, untuk nilai  $x = 1$  nilai  $f(x)$  tidak ada. Tetapi jika kita coba dekati nilai  $x = 1$  dari sebelah kiri dan kanan maka dapat dilihat

$x$	0,9	0,99	0,999	1	1,001	1,01	1,1
$f(x)$	1.9	1.99	1.999	?	2.001	2.01	2.1

Perhatikan jika  $x$  mendekati 1 dari kiri  $f(x)$  mendekati nilai 2 dan jika  $x$  mendekati 1 dari kanan  $f(x)$  mendekati nilai 2.

Secara matematik kejadian di atas ditulis

$$\lim_{x \rightarrow 1} f(x) = 2$$



## 4.2 Definisi Limit

Secara intuisi definisi limit:

$$\lim_{x \rightarrow c} f(x) = L$$

Menyatakan bahwa limit fungsi  $f$  di  $c$  adalah  $L$ , artinya  $f(x)$  dekat dengan  $L$  jika  $x$  dekat ke  $c$ , dan  $x \neq c$ .

Definisi limit secara matematis

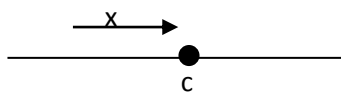
$$\lim_{x \rightarrow c} f(x) = L$$

Menyatakan:

$$\forall \varepsilon > 0, \exists \delta > 0 \ni 0 < |x - c| < \delta \rightarrow |f(x) - L| < \varepsilon$$

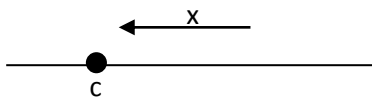
### 4.2.1 Limit Kiri dan Limit Kanan

$$\lim_{x \rightarrow c^-} f(x) = L$$



Jika  $x$  dekat tetapi sebelah kiri, maka  $f(x)$  mendekati  $L$

$$\lim_{x \rightarrow c^+} f(x) = L$$



Jika  $x$  dekat tetapi sebelah kanan, maka  $f(x)$  mendekati  $L$

**4.3 Teorema Limit****4.3.1 Teorema A**

$\lim_{x \rightarrow c} f(x) = L$  jika dan hanya jika  $\lim_{x \rightarrow c^-} f(x) = L$  dan  $\lim_{x \rightarrow c^+} f(x) = L$

**Contoh:**

Perhatikan fungsi berikut:

$$f(x) = \begin{cases} x^2 & x \leq 0 \\ x & 0 < x < 1 \\ 1 + x^2 & x \geq 1 \end{cases}$$

Tentukan:

1.  $\lim_{x \rightarrow 0} f(x)$  = (jika ada)
2.  $\lim_{x \rightarrow 1} f(x)$  = (jika ada)
3. Sketsa grafik tersebut.

Jawab:

1. Akan ditentukan  $\lim_{x \rightarrow 0} f(x) =$

$$\lim_{x \rightarrow 0^-} f(x) = \lim_{x \rightarrow 0^-} x^2 = 0$$

$$\lim_{x \rightarrow 0^+} f(x) = \lim_{x \rightarrow 0^+} x = 0$$

Karena limit kiri = limit kanan maka

$$\lim_{x \rightarrow 0} f(x) = 0$$

2. Akan ditentukan  $\lim_{x \rightarrow 1} f(x) =$

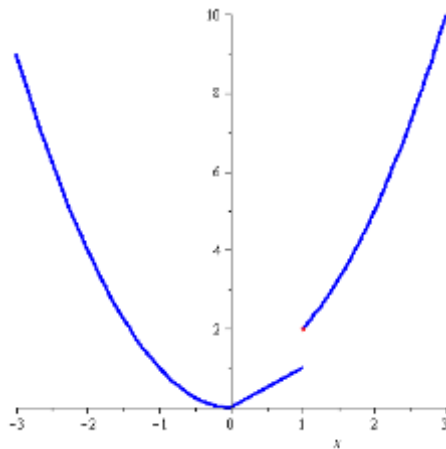
$$\lim_{x \rightarrow 1^-} f(x) = \lim_{x \rightarrow 1^-} x = 1$$



$$\lim_{x \rightarrow 1^+} f(x) = \lim_{x \rightarrow 1^+} 1 + x^2 = 2$$

Karena limit kiri  $\neq$  limit kanan maka  $\lim_{x \rightarrow 1} f(x)$  tidak ada

3.



#### 4.3.2 Teorema limit utama

Andaikan  $n$  bilangan bulat positif,  $k$  konstanta, dan  $f$  dan  $g$  adalah fungsi-fungsi yang mempunyai limit di  $c$ . Maka

1.  $\lim_{x \rightarrow c} k = k$
2.  $\lim_{x \rightarrow c} x = c$
3.  $\lim_{x \rightarrow c} kf(x) = k \lim_{x \rightarrow c} f(x)$
4.  $\lim_{x \rightarrow c} [f(x) + g(x)] = \lim_{x \rightarrow c} f(x) + \lim_{x \rightarrow c} g(x)$
5.  $\lim_{x \rightarrow c} [f(x) - g(x)] = \lim_{x \rightarrow c} f(x) - \lim_{x \rightarrow c} g(x)$
6.  $\lim_{x \rightarrow c} [f(x) \cdot g(x)] = \lim_{x \rightarrow c} f(x) \cdot \lim_{x \rightarrow c} g(x)$
7.  $\lim_{x \rightarrow c} \frac{f(x)}{g(x)} = \frac{\lim_{x \rightarrow c} f(x)}{\lim_{x \rightarrow c} g(x)}$ , asalkan  $\lim_{x \rightarrow c} g(x) \neq 0$



$$8. \lim_{x \rightarrow c} [f(x)]^n = \left[ \lim_{x \rightarrow c} f(x) \right]^n$$

$$9. \lim_{x \rightarrow c} \sqrt[n]{f(x)} = \sqrt[n]{\lim_{x \rightarrow c} f(x)}, \text{ asalkan } \lim_{x \rightarrow c} f(x) > 0 \text{ bilamana } n \text{ genap}$$

Contoh:

Tentukan nilai dari:

$$\lim_{x \rightarrow 4} (3x^2 - 2x)$$

Jawab:

$$\begin{aligned} \lim_{x \rightarrow 4} (3x^2 - 2x) &= \lim_{x \rightarrow 4} 3x^2 - \lim_{x \rightarrow 4} 2x = 3 \lim_{x \rightarrow 4} x^2 - 2 \lim_{x \rightarrow 4} x = 3 \left( \lim_{x \rightarrow 4} x \right)^2 - 2 \lim_{x \rightarrow 4} x = 3(4)^2 - 2 \cdot 4 \\ &= 40 \end{aligned}$$

#### 4.3.3 Teorema substitusi

Jika  $f$  suatu fungsi polinom atau fungsi rasional, maka

$$\lim_{x \rightarrow c} f(x) = f(c)$$

asalkan dalam kasus rasional nilai penyebut di  $c$  tidak nol.

Contoh:

Tentukan nilai dari:

$$\lim_{x \rightarrow 4} (3x^2 - 2x)$$

Jawab:

$$\lim_{x \rightarrow 4} (3x^2 - 2x) = 3(4)^2 - 2(4) = 40$$

**4.3.4 Teorema Apit**

Andaikan  $f$ ,  $g$ , dan  $h$  adalah fungsi-fungsi yang memenuhi  $f(x) \leq g(x) \leq h(x)$  untuk semua  $x$  dekat  $c$ , kecuali mungkin di  $c$ . Jika

$$\lim_{x \rightarrow c} f(x) = \lim_{x \rightarrow c} h(x) = L$$

Maka

$$\lim_{x \rightarrow c} g(x) = L$$

Contoh:

Tentukan

$$\lim_{x \rightarrow 1} (x - 1)^2 \sin\left(\frac{1}{x - 1}\right)$$

Jawab:

$$-1 \leq \sin\left(\frac{1}{x - 1}\right) \leq 1$$

$$-(x - 1)^2 \leq (x - 1)^2 \sin\left(\frac{1}{x - 1}\right) \leq (x - 1)^2$$

Karena

$$\lim_{x \rightarrow 1} -(x - 1)^2 = 0$$

Dan

$$\lim_{x \rightarrow 1} (x - 1)^2 = 0$$

Maka



$$\lim_{x \rightarrow 1} (x - 1)^2 \sin\left(\frac{1}{x - 1}\right) = 0$$

#### 4.3.5 Kekontinuan di satu titik

Fungsi  $f$  dikatakan kontinu di titik  $x = c$ , jika

1.  $f(c)$  ada
2.  $\lim_{x \rightarrow c} f(x)$  ada
3.  $\lim_{x \rightarrow c} f(x) = f(c)$

Jika salah satu syarat tidak dipenuhi maka fungsi  $f$  dapat dikatakan tidak kontinu di  $x = c$ .

#### 4.3.6 Teorema limit komposit

Jika  $\lim_{x \rightarrow c} g(x) = L$  dan jika  $f$  kontinu di  $L$ , maka

$$\lim_{x \rightarrow c} f(g(x)) = f\left(\lim_{x \rightarrow c} g(x)\right) = f(L)$$

Khususnya, jika  $g$  kontinu di  $c$  dan  $f$  kontinu di  $g(c)$ , maka fungsi komposit  $f \circ g$  kontinu di  $c$ .

#### 4.3.7 Kekontinuan pada selang

Fungsi  $f$  dikatakan **kontinu pada selang terbuka**  $(a, b)$  jika  $f$  kontinu di setiap titik  $(a, b)$ .  $f$  **kontinu pada selang tertutup**  $[a, b]$  jika kontinu pada  $(a, b)$ , kontinu kanan di  $a$  dan kontinu kiri di  $b$ .

#### 4.3.8 Teorema Nilai Antara

Jika  $f$  kontinu pada  $[a, b]$  dan jika  $W$  sebuah bilangan antara  $f(a)$  dan  $f(b)$ , maka terdapat sebuah bilangan  $c$  di antara  $a$  dan  $b$  sedemikian sehingga  $f(c) = W$ .

**4.3.9 Limit tak hingga**

Jika  $\lim_{x \rightarrow c} f(x) = L, L \neq 0$  dan  $\lim_{x \rightarrow c} g(x) = 0$  maka

$$\lim_{x \rightarrow c} \frac{f(x)}{g(x)} =$$

1.  $-\infty$ , jika  $L > 0$  dan  $g(x)$  menuju 0 dari bawah (arah nilai  $g(x)$  yang negatif)
2.  $\infty$ , jika  $L > 0$  dan  $g(x)$  menuju 0 dari atas (arah nilai  $g(x)$  yang positif)
3.  $\infty$ , jika  $L < 0$  dan  $g(x)$  menuju 0 dari bawah (arah nilai  $g(x)$  yang negatif)
4.  $-\infty$ , jika  $L < 0$  dan  $g(x)$  menuju 0 dari atas (arah nilai  $g(x)$  yang positif)

Contoh:

Tentukan limit:

$$\lim_{x \rightarrow 1^-} \frac{x^2 + 1}{x - 1} =$$

Jawab:

Jika disubstitusi langsung akan menghasilkan  $\frac{2}{0}$ , maka tidak dapat menggunakan teorema substitusi.

Maka

$$\lim_{x \rightarrow 1^-} x^2 + 1 = 2 > 0$$

$\lim_{x \rightarrow 1^-} x - 1$  menuju nol dari bawah. Oleh karena itu,

$$\lim_{x \rightarrow 1^-} \frac{x^2 + 1}{x - 1} = -\infty$$



**4.3.10 Limit di tak hingga**

Tentukan nilai

$$\lim_{n \rightarrow \infty} \frac{f(x)}{g(x)} =$$

Jika  $f$  dan  $g$  adalah fungsi polinom.

Untuk menentukan nilai limit di atas perhatikan pangkat tertinggi fungsi  $f$  dan  $g$  :

1. Jika pangkat pembilang (fungsi  $f$ ) lebih besar dibanding pangkat penyebut (fungsi  $g$ ) maka nilainya  $\infty$  atau  $-\infty$ .

Contoh: Tentukan nilai

$$\lim_{x \rightarrow \infty} \frac{x^2 - 4}{x - 2}$$

Jawab:

$$\lim_{x \rightarrow \infty} \frac{x^2 - 4}{x - 2} = \lim_{x \rightarrow \infty} \frac{(x - 2)(x + 2)}{x - 2} = \lim_{x \rightarrow \infty} x + 2 = \infty$$

2. Jika pangkat pembilang (fungsi  $f$ ) lebih kecil dibanding pangkat penyebut (fungsi  $g$ ) maka nilainya 0.

Contoh: Tentukan nilai

$$\lim_{x \rightarrow -\infty} \frac{x^2 - 4x + 4}{x^4 - 3x}$$

Jawab:

$$\lim_{x \rightarrow -\infty} \frac{x^2 - 4x + 4}{x^4 - 3x} = \lim_{x \rightarrow -\infty} \frac{x^2 \left(1 - \frac{4}{x} + \frac{4}{x^2}\right)}{x^2 \left(x^2 - \frac{3}{x}\right)} = \lim_{x \rightarrow -\infty} \frac{1 - \frac{4}{x} + \frac{4}{x^2}}{x^2 - \frac{3}{x}} = \frac{1}{\infty} = 0$$

3. Jika pangkat pembilang (fungsi  $f$ ) sama dengan pangkat penyebut (fungsi  $g$ ) maka nilainya bergantung dengan koefisien suku pangkat tertinggi.



Contoh: Tentukan nilai

$$\lim_{x \rightarrow \infty} \frac{x^2 - 4x + 4}{x^2 - 1}$$

Jawab:

$$\lim_{x \rightarrow \infty} \frac{x^2 - 4x + 4}{x^2 - 1} = \lim_{x \rightarrow \infty} \frac{x^2 \left(1 - \frac{4}{x} + \frac{4}{x^2}\right)}{x^2 \left(1 - \frac{1}{x^2}\right)} = \lim_{x \rightarrow \infty} \frac{1 - \frac{4}{x} + \frac{4}{x^2}}{1 - \frac{1}{x^2}} = \frac{1}{1} = 1$$

### Latihan

1. Cari limit yang ditunjukkan

a.  $\lim_{x \rightarrow 3} \left(\frac{2}{x} + 1\right)$

c.  $\lim_{x \rightarrow 1} \frac{x^2 + 6x - 7}{x^2 - 1}$

b.  $\lim_{x \rightarrow 3} \frac{x^2 - 2x - 3}{x - 3}$

d.  $\lim_{x \rightarrow 0} \frac{\sin^2 x}{x}$

2. Carilah limit yang ditunjukkan atau nyatakan jika tidak ada.

a.  $\lim_{u \rightarrow 1} \frac{u^2 - 1}{u + 1}$

b.  $\lim_{z \rightarrow 2} \frac{z^2 - 4}{z^2 + z - 6}$

3. Nyatakan apakah fungsi yang ditunjukkan kontinu atau tidak di 2: jika takkontinu jelaskan sebabnya

a.  $f(x) = 4x^2 - 2x + 12$

c.  $f(x) = \frac{8}{x-2}$

b.  $h(t) = \begin{cases} \frac{4t-8}{t-2} & \text{jika } t \neq 2 \\ 2 & \text{jika } t = 2 \end{cases}$

4. Tentukan nilai  $a$  dan  $b$  sehingga fungsi berikut kontinu dimana-mana dan kemudian gambarkan grafik fungsi tersebut:

$$f(x) = \begin{cases} ax + 5 & x \leq 1 \\ 3x^2 + 1 & 1 < x \leq 5 \\ 3x - b & x < 5 \end{cases}$$